

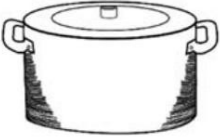







Gewicht erraten & Multiplikation

A. Schätze das Gewicht jedes Objekts und kreise deine Antwort ein.

 <p>2 Gramm 500 Gramm 20 Kilogramm</p>	 <p>0,5 Gramm 5 Kilogramm 40 Kilogramm</p>
<p>100 Gramm 4 kg 20 kg</p> 	<p>5 Kilogramm 100 Kilogramm 1000 Kilogramm</p> 
 <p>5 Kilogramm 70 Kilogramm 800 Kilogramm</p>	 <p>3 Gramm 450 Gramm 30 Kilogramm</p>

B. Die Tabellen zeigen, wie viel wir von jeder Zutat benötigen, um Lunchpakete herzustellen. Fülle alle Tabellen aus. Verwende die 100er-Tabelle auf Seite 6 als Hilfe.

Ein Lunchpaket	Drei Lunchpakete	Fünf Lunchpakete
2 Scheiben Brot	_____ Scheiben Brot	_____ Scheiben Brot
4 Schinken Scheiben	_____ Schinken Scheiben	_____ Schinken Scheiben
7 Karottenstifte	_____ Karottenstifte	_____ Karottenstifte
12 Chips	_____ Chips	_____ Chips
3 Kekse	_____ Kekse	_____ Kekse