

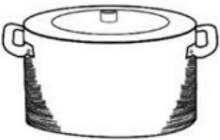







## Gewicht erraten & Multiplikation

A. Schätze das Gewicht jedes Objekts und kreise deine Antwort ein.

 <p>2 Gramm 500 Gramm → 20 Kilogramm</p>	 <p>0,5 Gramm → 5 Kilogramm 40 Kilogramm</p>
<p>100 Gramm 4 kg → 20 kg</p> 	<p>5 Kilogramm 100 Kilogramm 1000 Kilogramm →</p> 
 <p>5 Kilogramm 70 Kilogramm 800 Kilogramm →</p>	 <p>3 Gramm 450 Gramm → 30 Kilogramm</p>

B. Die Tabellen zeigen, wie viel wir von jeder Zutat benötigen, um Lunchpakete herzustellen. Fülle alle Tabellen aus. Verwende **Die 100er-Tabelle** auf Seite 6 als Hilfe.

Ein Lunchpaket	Drei Lunchpakete	Fünf Lunchpakete
2 Scheiben Brot	___ 6 ___ Scheiben Brot	___ 10 ___ Scheiben Brot
4 Schinken-Scheiben	___ 12 ___ Schinken-Scheiben	___ 20 ___ Schinken-Scheiben
7 Karottenstifte	___ 21 ___ Karottenstifte	___ 35 ___ Karottenstifte
12 Chips	___ 36 ___ Chips	___ 60 ___ Chips
3 Kekse	___ 9 ___ Kekse	___ 15 ___ Kekse