

Name _____

Wiederholung !



A. Löse die Aufgaben. Nutze den Platz rechts als Arbeitsbereich.

$\begin{array}{r} 65 \\ + 85 \\ \hline \end{array}$	$\begin{array}{r} 956 \\ + 347 \\ \hline \end{array}$	$\begin{array}{r} €7.53 \\ - €2.38 \\ \hline \end{array}$	<div style="background-color: #cccccc; width: 40px; height: 40px; margin: 0 auto;"></div> $\begin{array}{r} + 38 \\ \hline 476 \end{array}$
---	---	---	---

B. Vergleiche die Geldbeträge mit <, > oder =.

4 Euro + 2 Fünfcnt-Münzen + 3 Cent 425c


C. Vergleiche die Brüche mit >, < oder =.

$\frac{2}{3}$ $\frac{2}{6}$  $\frac{1}{2}$ $\frac{1}{4}$  $\frac{3}{4}$ $\frac{3}{8}$

D. Löse die Aufgaben & fülle die Lücken aus.



 Wieviel Uhr ist es dreißig Minuten *nach* 12:50? _____

 5 Tausender + 14 Hunderter + 18 Zehner
+ 12 Einer sind _____

 Marienkäfer haben sechs Beine.
Wie viele Beine haben sieben Marienkäfer? _____

E. Zähle in 5er-Schritten, um die Lücken zu füllen.

5, 10, _____, _____, _____, _____, 35, _____, _____, 50