

Name _____

Wiederholung!

A. Löse die Additions- und Subtraktionsaufgaben.

$8 + \underline{\quad} = 13$

$14 - \underline{\quad} = 7$



$124 + 48 = \underline{\quad}$

$218 + 67 = \underline{\quad}$

B. Löse die Aufgaben und fülle die Lücken aus.

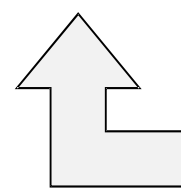
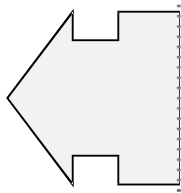
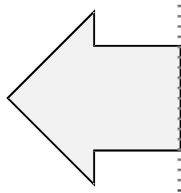
🌐 Wie viele Zehner sind in 273? _____

🌐 Wie spät war es 4 Stunden und 20 Minuten vor 11:40 Uhr? _____

🌐 Was ist die größte Anzahl an Münzen, die wir benötigen, um 40 c zu machen, ohne Eincent-Münzen zu verwenden? _____

🌐 Wenn ein Korb 5 Äpfel aufnehmen kann, wie viele Körbe brauchst du für 40 Äpfel? _____

C. Zeichne die andere Hälfte jeder Form, um sie symmetrisch zu machen.



D. Zähle in 4er-Schritten, um die Lücken zu füllen.

4, 8, _____, _____, _____, _____, 28, _____, _____, 40

E. Bitte deine Eltern, dir Haus-Nummern einiger Nachbarn auf beiden Straßen-Seiten zu nennen. Notiere sie. Was fällt dir auf?