

Name _____

Wiederholung!

A. Löse die Additions- und Subtraktionsaufgaben.

$8 + \underline{\quad} = 13$

$14 - \underline{\quad} = 7$



$124 + 48 = \underline{172}$

$218 + 67 = \underline{285}$

B. Löse die Aufgaben und fülle die Lücken aus.

🌐 Wie viele Zehner sind in 273?

7

🌐 Wie spät war es 4 Stunden und 20 Minuten vor 11:40 Uhr?

7:20

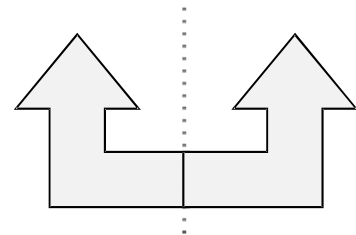
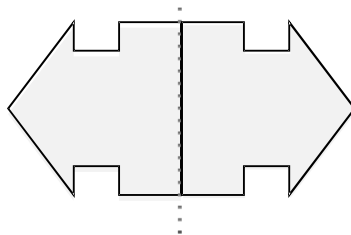
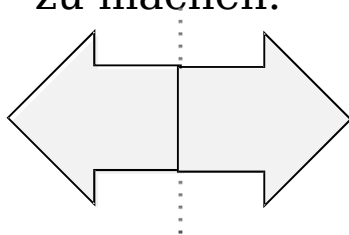
🌐 Was ist die größte Anzahl an Münzen, die wir benötigen, um 40 c zu machen, ohne Eincent-Münzen zu verwenden?

20 Zweicent-Münzen

🌐 Wenn ein Korb 5 Äpfel aufnehmen kann, wie viele Körbe brauchst du für 40 Äpfel?

8 Körbe

C. Zeichne die andere Hälfte jeder Form, um sie symmetrisch zu machen.



D. Zähle in 4er-Schritten, um die Lücken zu füllen.

4, 8, 12, 16, 20, 24, 28, 32, 46, 40

E. In der BRD beginnen in allen Gemeinden die Hausnummern vom Ortskern weg:

*auf der rechten Seite „Ungerade“ und*auf der linken Seite „Gerade“