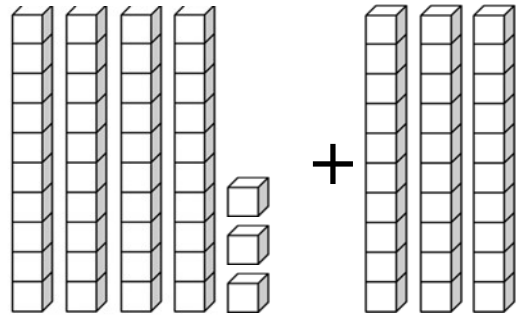
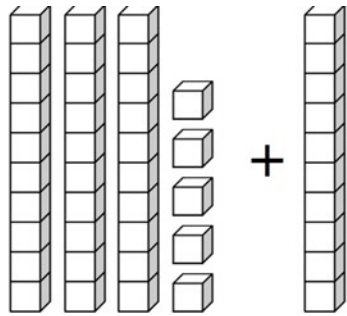


Name _____

Zählen in 10er-Schritten & Addition von Zehnern


A. Zähle die Anzahl der Blöcke. Fülle die Lücken aus.



35 + 10 = _____

_____ + _____ = _____

B. Zählen in 10er-Schritten. Ergänze die fehlenden Zahlen.



C. Löse die Additionsaufgaben.

75	10	33	10	68	10
+ 10	+ 56	+ 10	+ 19	+ 10	+ 10
<input type="text"/>	<input type="text"/>	<input type="text"/>	<input type="text"/>	<input type="text"/>	<input type="text"/>

46	37	62	51	46	40
+ 10	+ 20	+ 10	+ 30	+ 20	+ 13
<input type="text"/>	<input type="text"/>	<input type="text"/>	<input type="text"/>	<input type="text"/>	<input type="text"/>