




Name \_\_\_\_\_

## Münzen zählen & Wiederholung!

**A.** Verwende so wenig Münzen wie möglich, um die Dinge zu kaufen.

Artikel	25c	10c	5c	1c
 8c	0	0	1	3
 17c	0	1	1	2
 49c	1	2	0	4

**B.** Wie viel mehr Geld bräuchten wir, um 100¢ zu verdienen?



+ 30 c  
\_\_\_\_\_

**C.** Löse die Additions- und Subtraktionsaufgaben.

$$420 + 10 = \underline{430}$$

$$160 + 10 = \underline{170}$$

$$370 - 10 = \underline{360}$$



$$290 - 10 = \underline{280}$$

**D.** Löse die Aufgaben und fülle die Lücken aus.

Was fehlt? 54, 52, 50, 48, 46, 44, 42



In der Zahl 823, was ist der Stellenwert der Ziffer 8? 800

Melanie möchte einen Muffin kaufen. Er kostet 16c. Sie hat zwei Zehncent-Münzen. Kann sie den Muffin kaufen?

Ja, sie kann