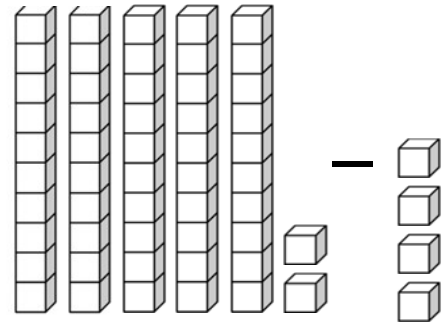

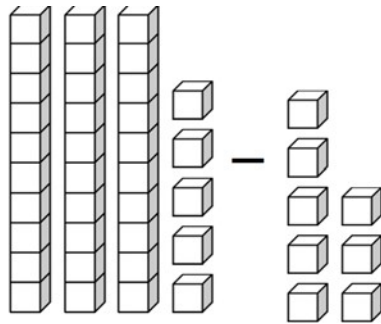


Subtraktion 1-stelliger Zahlen mit Übertrag

A. Zähle die Anzahl der Blöcke. Fülle die Lücken aus.



35 - 8 = _____ _____ - _____ = _____

B. Üben wir Subtraktion mit Umgruppierung. Der erste ist für dich erledigt.

5 13						
6 3	1 4	5 5	7 3	3 6	2 4	
- 9	- 6	- 6	- 5	- 9	- 7	
5 4						

C. Löse die Subtraktionsaufgaben. Einige der Aufgaben müssen vielleicht mit Übertrag gerechnet werden.

27	85	35	65	29	46
- 9	- 7	- 9	- 5	- 4	- 8

51	94	48	19	62	51
- 9	- 8	- 3	- 9	- 8	- 7