



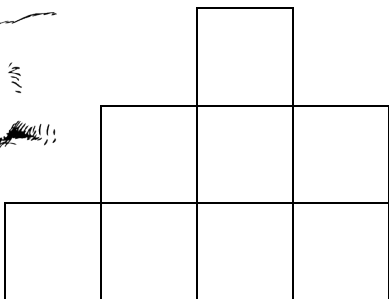

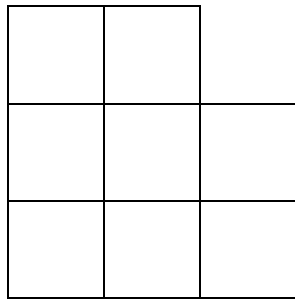



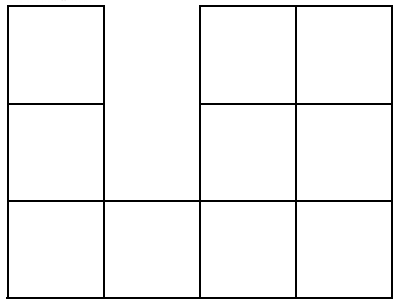
Name _____

Wiederholung

A. Löse die Additionsaufgaben.

$\begin{array}{r} 25 \\ + 55 \\ \hline \end{array}$	$\begin{array}{r} 350 \\ + 260 \\ \hline \end{array}$	$\begin{array}{r} 122 \\ + 357 \\ \hline \end{array}$	$\begin{array}{r} 529 \\ + 312 \\ \hline \end{array}$	$\begin{array}{r} 349 \\ + 324 \\ \hline \end{array}$
---	---	---	---	---

B. Male eine Hälfte jeder Form mit deiner Lieblingsfarbe an!

C. Löse die Sachaufgabe. Benutze den Platz auf der rechten Seite als Arbeitsbereich.

*Der Baum hat vier Äste.
 Jeder Ast hat zwei Nester.
 Jedes Nest hat fünf Eier.
 Wie viele Eier sind das insgesamt?*