



Name \_\_\_\_\_

## Addition mit Geld

A. Lösen wir die Additionsaufgaben mit Geld.







|        |        |        |        |
|--------|--------|--------|--------|
| 2.83€  | 4.95€  | 2.38€  | 8.65€  |
| +6.47€ | +8.34€ | +3.42€ | +7.29€ |
| 9.30€  | 13.29€ | 5.80€  | 15.94€ |

|        |        |        |        |
|--------|--------|--------|--------|
| 7.24€  | 9.88€  | 4.73€  | 3.42€  |
| +2.54€ | +7.15€ | +5.85€ | +7.23€ |
| 9.78€  | 17.03€ | 10.58€ | 10.65€ |

|        |        |        |        |
|--------|--------|--------|--------|
| 6.70€  | 8.24€  | 2.49€  | 7.54€  |
| +6.58€ | +3.36€ | +5.26€ | +1.58€ |
| 13.28€ | 11.60€ | 7.75€  | 9.12€  |

B. Kannst du dieses Geldrätsel lösen? Lege eine Münze in jedes Quadrat, damit die Summe am Ende jeder Zeile und Spalte korrekt ist.



|   |  |   |     |
|---|--|---|-----|
|  |  |  | 26c |
|  |  |  | 21c |
| 30c   | 11c  | 6c  |     |

