






Name \_\_\_\_\_

### Addieren von 2-stelligen Zahlen **und** Schätzen von Summen

A. Löse die Additionsaufgaben, um die tatsächlichen Summen zu finden.

$78$	$23$	$84$	$48$	$47$	$68$
$+ 93$	$+ 16$	$+ 26$	$+ 76$	$+ 42$	$+ 16$
→	→	→	→	→	→

B. Schätze die Summen auf den nächsten Zehner. Runden die Zahlen auf den nächsten Zehner und addiere sie dann. Der erste ist schon für dich erledigt.

$78$ $+ 93$ → Schätzung: 170	$80$ $+ 90$ →		$23$ $+ 16$ → Schätzung:	$+$ →
$47$ $+ 26$ → Schätzung:	$+$ →		$68$ $+ 76$ → Schätzung:	$+$ →
$84$ $+ 42$ → Schätzung:	$+$ →		$48$ $+ 16$ → Schätzung:	$+$ →

C. Vergleiche die tatsächlichen Summen und die geschätzten Summen. Sind es gute Schätzungen?