






# Vorgänger & Nachfolger, Stellenwert und Addieren mit 11

A) Schreibe die Zahl, die davor und danach kommt..

davor	danach		davor	danach
				
				

B) Schreibe die Zahl, die der Stellenwertbeschreibung entspricht.

5 ist in der Zehnerstelle:

2 ist in der Einerstelle:

9 ist in der Hunderterstelle:

C) . Addiere immer 11. Ergänze die fehlenden Zahlen in dem 100er-Quadrat.

