






# Vorgänger & Nachfolger, Stellenwert und Addieren mit 11

A) Schreibe die Zahl, die davor und danach kommt..

davor	danach		davor	danach	
<u>72</u>		<u>74</u>	<u>35</u>		<u>37</u>
<u>32</u>		<u>34</u>	<u>76</u>		<u>78</u>



B) Schreibe die Zahl, die der Stellenwertbeschreibung entspricht.

5 ist in der Zehnerstelle:  
50

2 ist in der Einerstelle:  
2

9 ist in der Hunderterstelle:  
900

C) . Addiere immer 11. Ergänze die fehlenden Zahlen in dem 100er-Quadrat.

